



NOM ET PRENOM DE L'ELEVE :

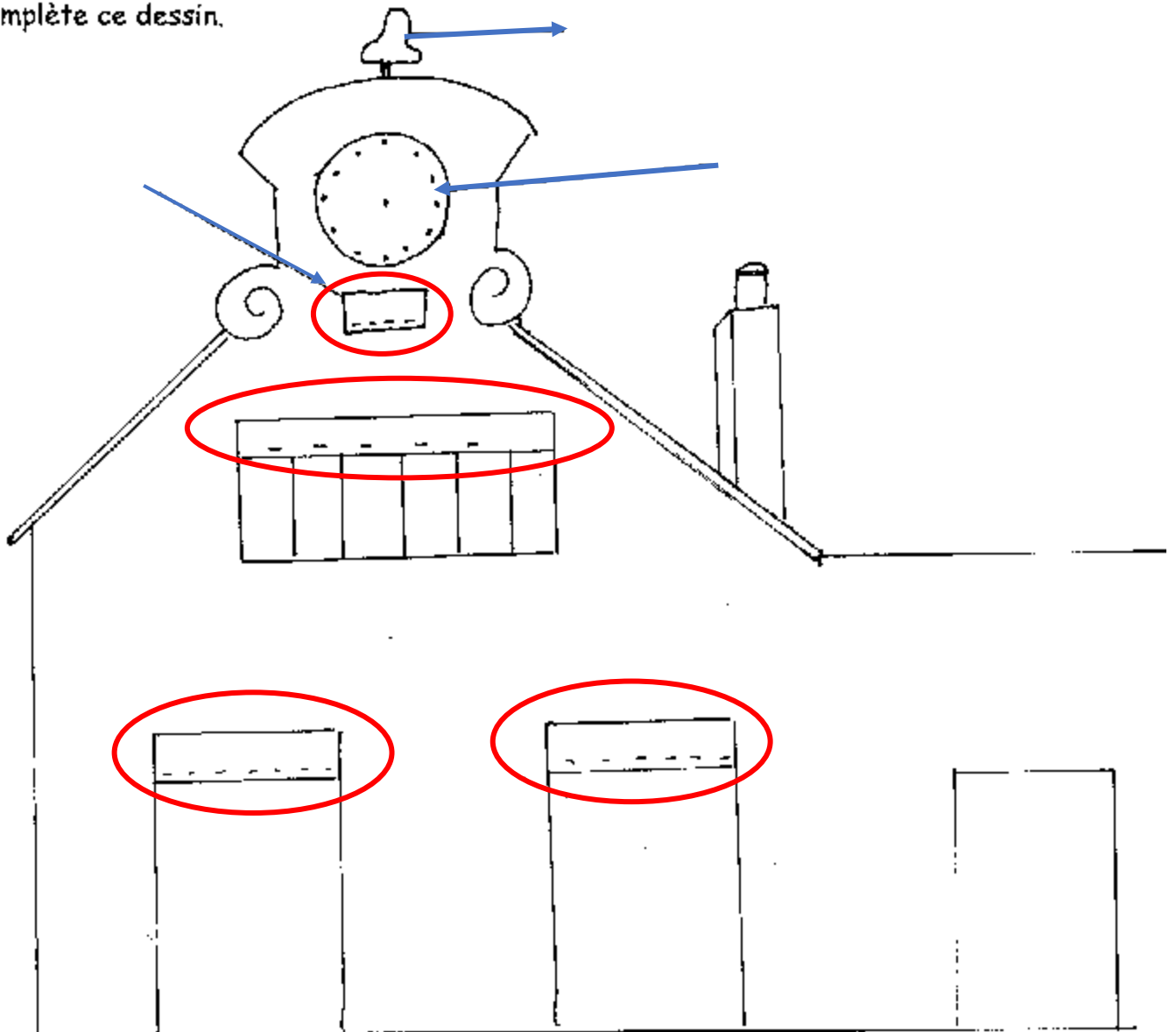
.....

A la découverte du hameau de POUILLY-LE-FORT

CP – CE1

LA MAISON D'ECOLE

Complète ce dessin.



1. Complète les noms sur le plan au cours de ta promenade .

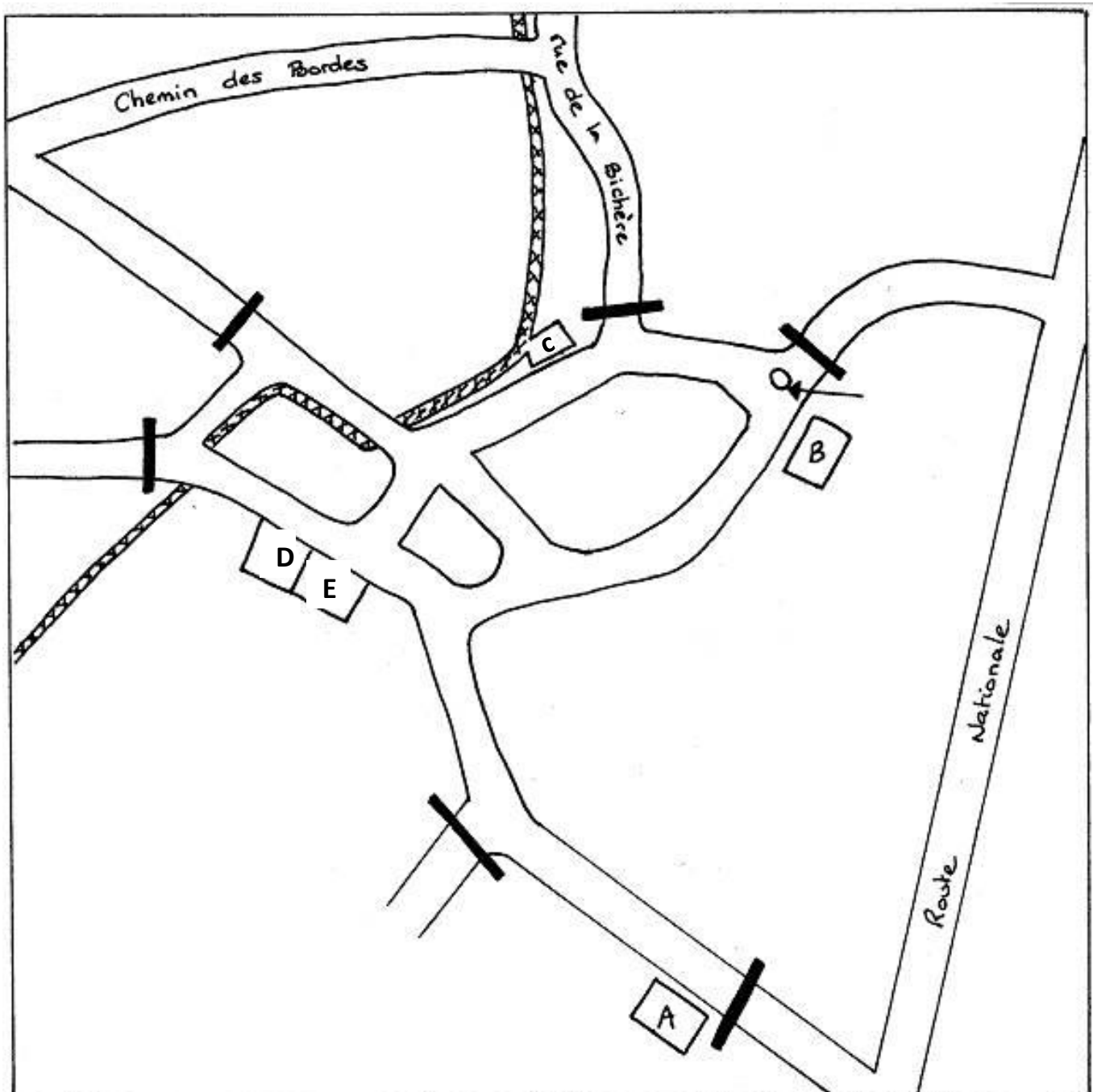
A : Maison d'Ecole

B :

C :

D :

E :



Départ pour la visite du hameau :

Partir de la Maison d'Ecole, tu marqueras ton trajet sur le plan.

- ◆ Colorie au crayon à papier la Maison d'Ecole.
- ◆ Quel est le nom de cette rue ? _____

Poursuivre tout droit et tourner dans la première rue à droite.

Comment s'appelle la rue ? _____

- ◆ Regarde les maisons de cette rue :

Sont-elles vieilles ? _____

En quoi sont-elles ? _____

Y-a-t-il des immeubles ? _____

- ◆ Comment peut-on différencier les maisons anciennes des maisons neuves ? _____



- ◆ Comment s'appelle cet objet ? _____

- ◆ A quoi sert-il _____

S'arrêter au Clos Pasteur et lire la plaque :

Comment s'appelle le vétérinaire ?

Comment s'appelle la personne qui a fait les expériences ?


Prendre à gauche la rue de la fontaine.

Aller jusqu'au bout de cette rue.

- ◆ Pourquoi cette rue s'appelle ainsi ?

- ◆ Comment s'appelle cet objet qui est au coin de la rue de la fontaine et de la rue de la Bichère ?

- ◆ Dessine cet objet. A quoi servait-il ?



Tourne rue du lavoir.



Qu'est-ce qu'un lavoir ?

Suis le trajet de l'eau. Dessine l'eau sur ton plan.

Prends la rue du lavoir puis compte le nombre de passerelles.

Il y en a _____



Au bout de la rue du lavoir, tourne sur la droite, rue de la butte aux fontaines.

Qu'est-ce qu'un abreuvoir :

Continue ton chemin puis tourne sur la gauche rue Bichot



A quoi sert cet objet ? _____

Par quel objet peut-il être remplacé ? _____

Au bout de la rue, tourne sur ta gauche, rue grande.

Tu arrives à une grande place.

Sur cette place il y a un château.

Colorie-le sur ton plan et

Dessine-le sur la feuille suivante.

◆ Par quelle rue reviens-tu à la Maison d'Ecole ?
